


1. Risolvi le moltiplicazioni. Aiutati con lo schema e fai disegni.

$12 \times 13 =$

$12 \times 3 = \dots$

$12 \times 10 = \dots$




h	da	u	
			X
			=
			+
			=

$19 \times 11 =$

$\dots \times \dots = \dots$

$\dots \times \dots = \dots$




h	da	u	
			X
			=
			+
			=

$11 \times 18 =$

$\dots \times \dots = \dots$

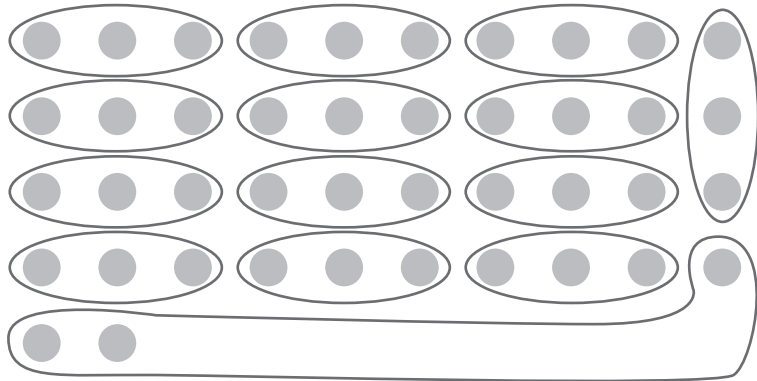
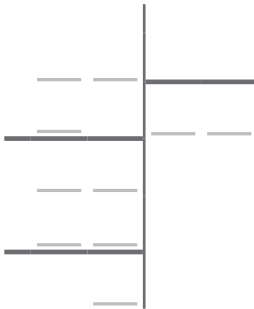
$\dots \times \dots = \dots$



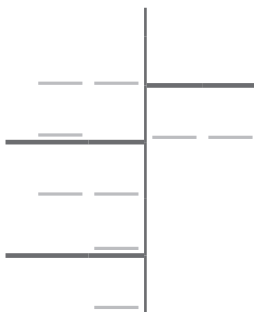
h	da	u	
			X
			=
			+
			=

1. Risolvi le divisioni aiutandoti con i disegni. Prima dividi le decine per il divisore, poi dividi quel che resta.

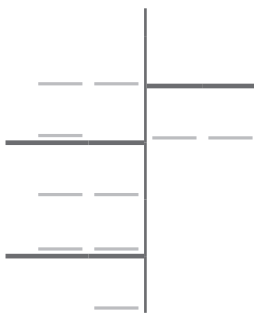
$42 : 3 =$



$24 : 2 =$




$52 : 4 =$



1. Risolvi le moltiplicazioni con il riporto. Se hai difficoltà aiutati con i disegni.


$15 \times 17 =$

	h	da	u	
.....	___	___	___	X
.....	___	___	___	=
<hr style="border: 1px solid black;"/>				
.....	___	___	___	+
.....	___	___	___	=
<hr style="border: 1px solid black;"/>				
.....	___	___	___	




$13 \times 16 =$

	h	da	u	
.....	___	___	___	X
.....	___	___	___	=
<hr style="border: 1px solid black;"/>				
.....	___	___	___	+
.....	___	___	___	=
<hr style="border: 1px solid black;"/>				
.....	___	___	___	




$14 \times 18 =$

	h	da	u	
.....	___	___	___	X
.....	___	___	___	=
<hr style="border: 1px solid black;"/>				
.....	___	___	___	+
.....	___	___	___	=
<hr style="border: 1px solid black;"/>				
.....	___	___	___	

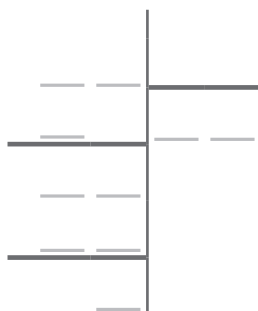


1. Risolvi le divisioni aiutandoti con i disegni. Prima dividi le decine per il divisore, poi dividi quel che resta.


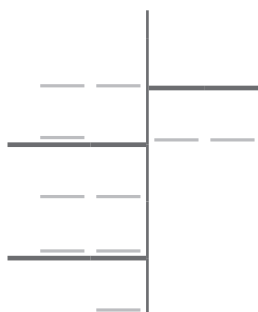
$$59 : 4 =$$



$$67 : 5 =$$



$$78 : 6 =$$



1. Risolvi i problemi.

a. Paolo vende 18 scatole di dolci. Nelle scatole mette tavolette di cioccolato bianco e di cioccolato fondente. Ogni scatola ha 28 tavolette di cioccolato e vende ogni tavoletta a 2 euro.

Quanto guadagna in totale?

Dalla vendita delle tavolette di cioccolato bianco guadagna 432 euro.

Quanto guadagna dalla vendita delle tavolette di cioccolato fondente?

Dati

Operazioni

b. Trova una divisione che ha come risultato 5 con resto 2. Scrivi la divisione e fai il disegno. Secondo te sono possibili altre divisioni con le stesse caratteristiche?