



OPERAZIONI CON \times E :

- ▼ Luigi ha un'azienda agricola e ogni settimana mette la frutta e la verdura nelle scatole per portarle al mercato.


La scatola delle carote contiene 16 carote.
La scatola dei pomodori contiene 12 pomodori.
La scatola delle mele contiene 8 mele.
La scatola dei meloni contiene 4 meloni.



- ▼ Leggi, calcola e rispondi.


- 1 Il primo giorno prende 48 pezzi di ogni tipo di frutta e verdura.

Quante scatole riempie?



- 2 Il secondo giorno prende solo carote e completa 12 scatole.


Quante carote prende?




- 3 Il terzo giorno prende 50 mele.

Quante scatole riempie?

Rimane fuori qualche mela?



- 4 Il giorno successivo prende 32 pezzi dello stesso frutto e completa 8 scatole. Che cosa ha preso?



- 5 L'ultimo giorno prende i pomodori e riempie 14 scatole. Poi prende le carote e completa 13 scatole. Ha preso più pomodori o carote?

